

令和6年度 公立学校教員採用候補者選考試験問題

数 学

1 / 5 枚中

注意 答はすべて解答用紙の解答欄に記入すること。
第2問題以降は解法の過程も書くこと。

第1問題 次の問に答えよ。

問1 $\sqrt{11}$ の小数部分を a とするとき、 a^2+6a-6 の式の値を求めよ。

問2 図1のような星形の先端にできる7つの角の和
 $\angle a + \angle b + \angle c + \angle d + \angle e + \angle f + \angle g$ の大きさを求めよ。

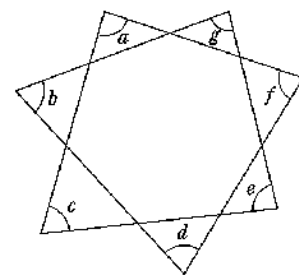


図1

問3 図2のように、東西に5本、南北に6本の道がある。これらの道を通って、最短距離でAからBへ行く道順を考える。このとき、次の(1)、(2)に答えよ。

- (1) 道順は全部で何通りか、求めよ。
- (2) 図2のPもQも通らない道順は全部で何通りか、求めよ。

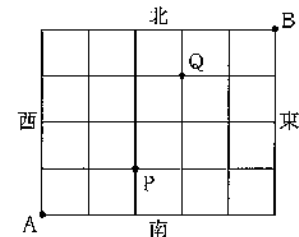


図2

問4 次の(1)、(2)に答えよ。

- (1) $2x^2+xy-y^2+4x+y+2$ を因数分解せよ。
- (2) $2x^2+xy-y^2+4x+y-7=0$ をみたす整数の組 (x, y) をすべて求めよ。

問5 2次関数 $y=ax^2+4x+(a+3)$ について、 y の値が常に負となるように、定数 a の値の範囲を求めよ。

問6 図3のような平行四辺形OACBにおいて、辺OA、BCの中点をそれぞれQ、R、辺OBを4:1に内分する点をS、辺ACを2:3に内分する点をT、線分QRとSTの交点をPとする。 $\vec{OA}=\vec{a}$ 、 $\vec{OB}=\vec{b}$ とするとき、 \vec{OP} を \vec{a} 、 \vec{b} を用いて表せ。

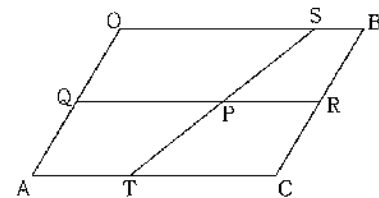


図3

次の第2問題、第3問題、第4問題は受験校種別の問題である。
 ・中学校・特別支援学校受験者はⅠ [中学校・特別支援学校受験者] を解答すること。
 ・高等学校受験者はⅡ [高等学校受験者] を解答すること。

Ⅰ [中学校・特別支援学校受験者]

第2問題 次の問に答えよ。

問1 図4で、点Aの座標は $(-2, 4)$ 、点Bの座標は $(2, 1)$ である。このとき、 $\angle AOB = 90^\circ$ となることを、中学校第3学年までの学習内容をふまえ、2通りの方法で証明せよ。

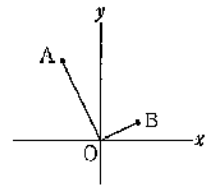


図4

問2 砲丸投げ選手2人の記録をヒストグラムで比較して、代表選手を選ぶことにした。図5は選手Aと選手Bの記録をそれぞれヒストグラムで表したものである。図5のヒストグラムを見て、選手Bを代表選手にしたいと言う生徒がいた。その生徒は、両選手の記録のヒストグラムのどのような特徴を根拠に判断していると考えられるか、読みとれることをもとに説明せよ。

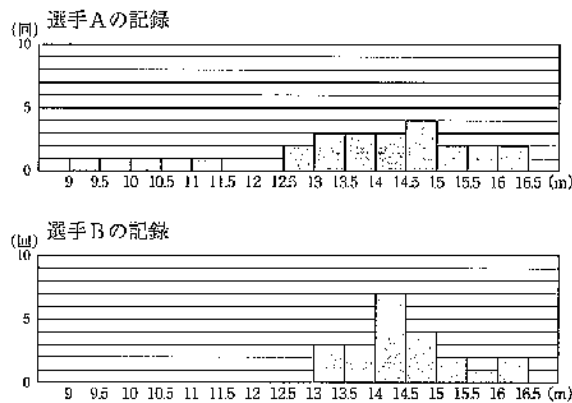


図5

I [中学校・特別支援学校受験者]

第3問題 図6のように、関数 $y = -\frac{1}{4}x^2$ のグラフと関数 $y = 2x - 5$ のグラフとの交点を、 x の値が小さいほうから順にA、Bとし、関数 $y = -\frac{1}{4}x^2$ のグラフと点Bを通る傾き1の直線との交点をCとすると、次の問に答えよ。

問1 $\triangle ABC$ の面積を求めよ。

問2 $\triangle CAE : \triangle CBE = 3 : 1$ となるように、線分 AB 上に点 E をとるとき、直線 CE の式を求めよ。

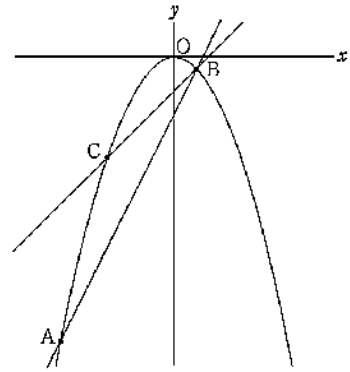


図6

第4問題 次の問に答えよ。

問1 図7のように、 $\angle C$ が直角である直角三角形 ABC の頂点 C から辺 AB にひいた垂線と辺 AB との交点を H とする。中学校第3学年の学習内容をふまえ、図7を用いて三平方の定理の証明せよ。ただし、 $BC = a$ 、 $CA = b$ 、 $AB = c$ とする。

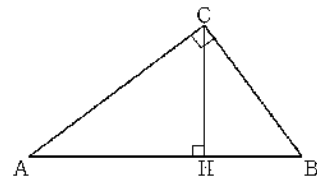


図7

問2 図8は、 $AB = 26$ 、 $BC = 17$ 、 $CA = 25$ の $\triangle ABC$ である。このとき、 $\triangle ABC$ の面積を求めよ。

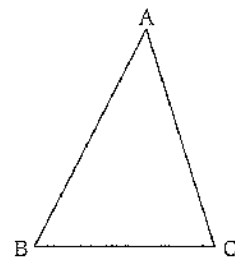


図8

II 【高等学校受験者】

第2問題 次の問に答えよ。

問1 数学Iで「図形と計量」の学習をしている。図9のように、四角形ABCDにおいて、ACの長さを a 、BDの長さを b とする。また、ACとBDの交点をOとし、 $\angle AOB = \theta$ とすると、四角形ABCDの面積 S が $S = \frac{1}{2}ab \sin \theta$ となることを証明した。そのあとで、図10のように、四角形ABCDを凹四角形としても $S = \frac{1}{2}ab \sin \theta$ が成り立つのではないかと生徒が予想した。図10の凹四角形ABCDにおいても生徒の予想が成り立つことを、数学Iの学習内容をふまえて、証明せよ。

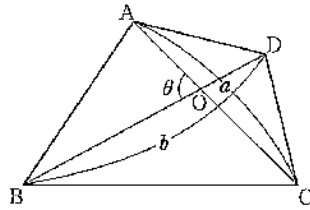


図9

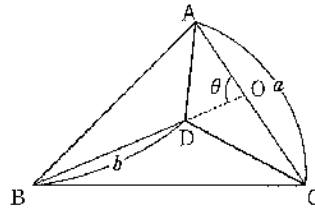


図10

問2 次の【問題】に対し、生徒が【答案】を作成した。この生徒の考え方の誤りを指摘し、生徒に示す正しい解答を記せ。

【問題】 放物線 $y=x^2$ と直線 $y=mx+m$ が異なる2点Q、Rで交わる時、線分QRの中点Pの軌跡を求めよ。

【答案】 2点Q、Rの x 座標は、2次方程式 $x^2=mx+m$ の異なる2つの実数解 α 、 β である。

線分QRの中点を $P(x, y)$ とすると、

$$\text{解と係数の関係より、 } x = \frac{\alpha + \beta}{2} = \frac{m}{2} \quad \dots \text{①}$$

$$P \text{ は } y=mx+m \text{ 上にあるから、 } y=mx+m = \frac{1}{2}m^2+m \quad \dots \text{②}$$

$$\text{①、②から } m \text{ を消去して、 } y=2x^2+2x$$

よって、点Pの軌跡は、放物線 $y=2x^2+2x$ である。

II [高等学校受験者]

第3問題 $\triangle ABC$ がある。点 X は頂点 A を出発点とし、1秒ごとに次の【規則】で移動する。このとき、 n 秒後に点 X が A にある確率を P_n とし、後の問に答えよ。

【規則】

$\frac{1}{4}$ の確率で左回りに隣の頂点に移動し、 $\frac{1}{4}$ の確率で右回りに隣の頂点に移動し、 $\frac{1}{2}$ の確率で移動しないものとする。

問1 P_1 を求めよ。また、 P_{n+1} を P_n を用いて表せ。

問2 数列 $\{P_n\}$ の極限值を求めよ。

第4問題 $x > 0$ で定義された関数 $f(x) = x \log x$ について、次の問に答えよ。ただし、 e は自然対数の底とし、 $\lim_{x \rightarrow +\infty} x e^{-x} = 0$ は証明なしに用いてもよい。

問1 曲線 $y = f(x)$ の概形をかけ。

問2 $x \geq a$ ($0 < a < 1$)において、曲線 $y = f(x)$ と x 軸、および直線 $x = a$ で囲まれる部分の面積を $S(a)$ とする。 $\lim_{a \rightarrow +0} S(a)$ を求めよ。