

令和7年度 公立学校教員採用候補者選考試験問題

家 庭

1 / 7 枚中

注意 答はすべて解答用紙の解答欄に記入すること。

第1問題 家族・家庭生活について、次の問に答えよ。

問1 次の文は、国民の権利としての社会保障制度をとらえた日本国憲法第25条である。後の(1)、(2)に答えよ。

第1項 すべて国民は、健康で文化的な  の生活を営む権利を有する。

第2項 国は、すべての生活部面について、、社会保障及びの向上及び増進に努めなければならない。

- (1)  ~  にあてはまる語句を答えよ。
- (2) 社会保障の4つの柱の一つに、「公的扶助」がある。公的扶助とは何か、簡潔に説明せよ。

問2 次の(1) ~ (3)に答えよ。

- (1) 合計特殊出生率とは何か、簡潔に記せ。
- (2) 少子化の影響としてどのようなことが懸念されるか、簡潔に二つ記せ。
- (3) パートナーシップ制度について説明せよ。

第2問題 保育について、次の問に答えよ。

問1 図1は、スキヤモンによる各臓器の発育曲線である。図中のは何の発育曲線を表しているか、後のA~Dから一つ選び、記号で答えよ。

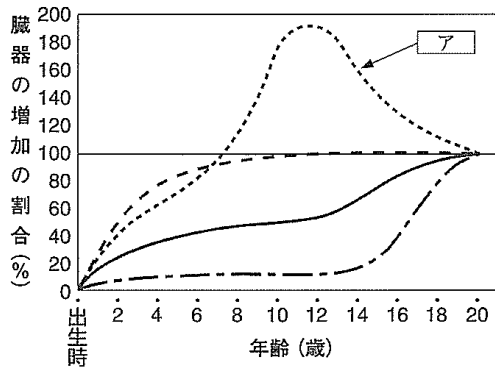


図1

- A 一般型 (身長・体重など)
- B 生殖器型 (卵巣・子宮・睾丸など)
- C リンパ系型 (リンパ節・リンパ組織など)
- D 神経系型 (脳・脊髄など)

問2 子どもの頃は、命のないものでも、存在するものはすべて生きていると考える時期がある。このようなものとの考え方を何というか、答えよ。

問3 子どもの遊びについて、次の(1)、(2)に答えよ。

(1) 次の文の イ に入る語を答えよ。

子どもは、遊びの中でいろいろなことを経験し、その経験が自主性や社会性、運動、 イ などの諸機能の発達につながる。

(2) 子どもの豊かな情操や健やかな発達をうながすためにつくられた、文学、美術、音楽、演劇などの文化を伝える手段として、積み木、絵本、人形、子ども向けの演劇や番組、わらべ歌などがあるが、これを何とよぶか、答えよ。

問4 次の文章は、「こども家庭庁6つの基本理念」である。後の(1)～(3)に答えよ。

こども家庭庁では、こども基本法に定められた次の6つの基本理念をもとに、こども政策を推進している。

【基本理念】

1. すべてのこどもは大切にされ、基本的な人権が守られ、 ウ されないこと。
2. すべてのこどもは、大事に育てられ、生活が守られ、愛され、保護される権利が守られ、平等に エ を受けられること。
3. 年齢や発達の種類により、自分に直接関係することに オ を言えたり、社会のさまざまな活動に参加できること。
4. すべてのこどもは年齢や発達の種類に応じて、 オ が尊重され、こどもの今とこれからにとって最もよいことが優先して考えられること。
5. 子育ては家庭を基本としながら、そのサポートが十分に行われ、家庭で育てることが難しいこどもも、家庭と同様の環境が確保されること。
6. 家庭や カ に夢を持ち、喜びを感じられる社会をつくること。

(1) ウ ～ カ にあてはまる語を答えよ。

(2) こども家庭庁が管轄する保育に関する施設をA～Cからすべて選び、記号で答えよ。

A 幼稚園    B 保育所    C 認定こども園

(3) 認定こども園は、幼稚園と保育所の機能や特長をあわせもつ以外に、どのような機能があるか、簡潔に答えよ。

第3問題 高齢者・高齢社会・共生社会について、次の問に答えよ。

問1 次の文の [ア]、[イ] に入る数字を答えよ。

高齢者（ [ア] 歳以上）の人口の総人口に占める割合が [イ] %を超えた社会を超高齢社会という。

問2 介護の必要な高齢者を高齢者が介護することを何というか、答えよ。

問3 次の文は、高齢者とコミュニケーションをとる場合のポイントである。 [ウ] ~ [オ] にあてはまる語をA~Fから選び、記号で答えよ。

1. 耳が遠い場合が多いので、大きめで [ウ] の声で、 [エ] をはっきり話す。
2. 視野が狭くなるので、できるだけ [オ] から話しかける。
3. 動作や会話のペースを合わせる。
4. 沈黙をおそれない。
5. 「おじいちゃん」「おばあちゃん」でなく名前で呼ぶ。（身内でない場合）

- A 高め            B 横            C 低め  
D 母音            E 子音            F 正面

問4 ノーマライゼーションとは何か、簡潔に説明せよ。

問5 図2は、不特定多数の人々が利用する公共交通機関や公共施設、観光施設等において、文字・言語によらず対象物、概念または状態に関する情報を提供する図である。この図を何というか、答えよ。

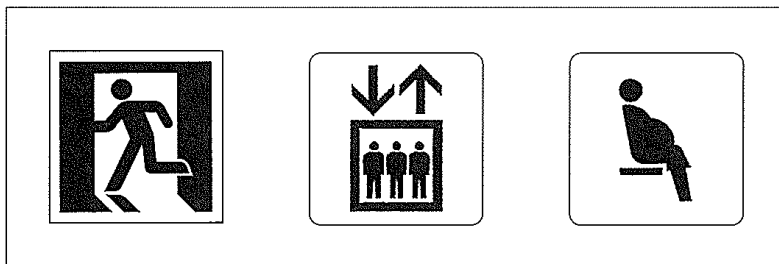


図2

第4問題 食生活について、次の間に答えよ。

問1 日本と世界の食文化について、次の(1)、(2)に答えよ。

(1) 日本の伝統的な季節の行事である「上巳の節句」と「端午の節句」について、最も関係の深い食べ物をA～Eから一つずつ選び、記号で答えよ。

A 千歳飴 B そうめん C さくら餅 D うなぎ E 柏餅

(2) 世界の料理として有名な「ボルシチ」と「パエリア」について、最も関係のある国をA～Eから一つずつ選び、記号で答えよ。

A スペイン B メキシコ C 韓国 D ロシア E ベトナム

問2 栄養素について、次の(1)、(2)に答えよ。

(1) カルシウムとビタミンCがそれぞれ欠乏した場合に生じる障害を、一つずつ答えよ。

(2) (1)の二つの栄養素を多く含む食品をA～Eから一つ選び、記号で答えよ。

A 野菜、果実、いも類 B 牛乳、乳製品、小魚、野菜  
C レバー、卵黄 D 海藻  
E 食塩、味噌

問3 「ハンバーグステーキと蒸し野菜のサラダ」の調理実習を行うため、表1、表2の材料を準備した。後の(1)～(8)に答えよ。

表1〔ハンバーグステーキ(1人分)〕

合いびき肉	80g	塩	1.4g
たまねぎ	30g	こしょう	少々
<input type="text" value="ア"/>	5g	<input type="text" value="イ"/>	少々
牛乳	10ml	サラダ油	小さじ1/2強
卵	12g		

表2〔蒸し野菜のサラダ(1人分)〕

さつまいも	50g
ブロッコリー	50g
にんじん	30g

(1) 合いびき肉とはどのような肉か、簡潔に記せ。

(2)  にあてはまる材料名を答えよ。また、 にあてはまる香辛料名をA～Eから一つ選び、記号で答えよ。なお、 の香辛料は肉の臭みを消すために使用するものとする。

A サフラン B パプリカ C マスタード D シナモン E ナツメグ

(3) 表1の卵と の材料の役割について、それぞれ簡潔に記せ。

(4) 表1のサラダ油について、小さじ1杯は何gか、答えよ。

(5) ハンバーグを焼く前に、ハンバーグのたねの空気を抜く理由を簡潔に記せ。

(6) ハンバーグのたねの中心をくばませてから焼く理由を簡潔に記せ。

(7) ハンバーグの焼き上がりの確認の仕方で、竹串を用いて確認する方法を簡潔に記せ。

(8) 表2の野菜を蒸し器で蒸す際、蒸し器の水が沸騰してから材料を入れる理由を簡潔に記せ。

問4 保健機能食品について、次の①、②の名称を答えよ。

- ① 事業者の責任において科学的根拠に基づいた機能性を表示した食品
- ② 国が定めた基準を満たし、特別な保健効果が期待できる食品

第5問題 衣生活について、次の問に答えよ。

問1 図3はゆかたの着方を、図4は帯の結び方を示したものである。次の(1)、(2)に答えよ。

(1) 図3の「ア」～「ウ」にあてはまる語を答えよ。

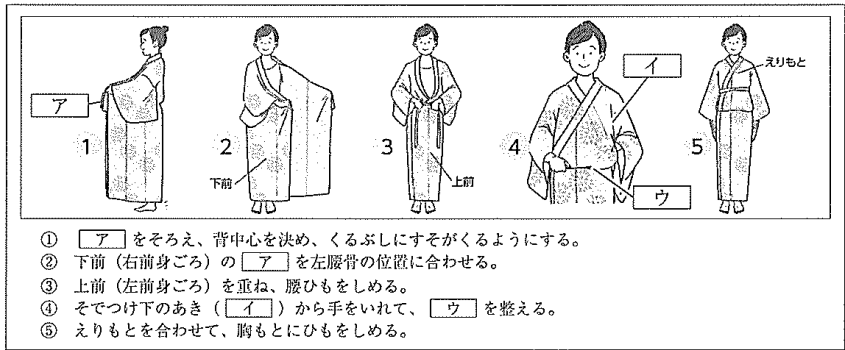


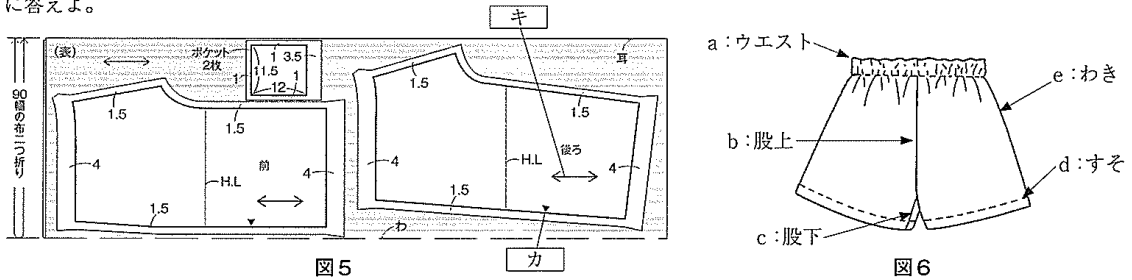
図3

(2) 図4の「エ」、「オ」にあてはまる帯の結び方を答えよ。



図4

問2 図5は無地の布を使用したハーフパンツの裁ち方を、図6は完成したハーフパンツを示したものである。後の(1)～(4)に答えよ。




(1) 洋服は、図5で示すハーフパンツのように平面の布を人体の形に合わせて裁断し、そのパーツを縫い合わせて作られている。これを何構成というか、答えよ。

(2) 「カ」、「キ」の記号は何か、答えよ。

(3) 図6のa～eを縫う順番について、正しいものをA～Dから選び、記号で答えよ。

- A d→e→c→b→a    B b→a→d→e→c    C e→c→b→d→a    D a→e→c→b→d

(4) ハーフパンツにポケットをつける場合、ポケット口の正しい縫い方をA～Cから選び、記号で答えよ。



問3 次の文は被服の保健衛生上の機能について述べたものである。[ク]、[ケ]にあてはまる語句や数値を答えよ。また、[コ]、[サ]にあてはまる語をA～Eから選び、記号で答えよ。

衣服を着ると、人体の皮膚と衣服との間に空気層ができる。衣服によってつくられたこの空気層の中の温度、湿度、気流のことを[ク]という。通常、人が快適に感じる最内空気層の[ク]の温度は $32^{\circ}\text{C} \pm 1^{\circ}\text{C}$ 、湿度は[ケ] %  $\pm 10\%$ である。寒いときに暖かく過ごすためには、袖、襟などの開口部を[コ]、重ね着をすることで[サ]性を高めることができる。

- A 閉じ    B 開き    C 通気    D 保温    E 吸水

問4 衣類の保管について、次の(1)、(2)に答えよ。

(1) 衣類を保管する場合、最も虫害を受けやすい繊維をA～Dから選び、記号で答えよ。

- A 絹    B ポリエステル    C レーヨン    D 麻

(2) 衣類を虫害から守るための対策を、簡潔に一つ記せ。

第6問題 住生活について、次の問に答えよ。

問1 自然災害への対策について、次の(1)、(2)に答えよ。

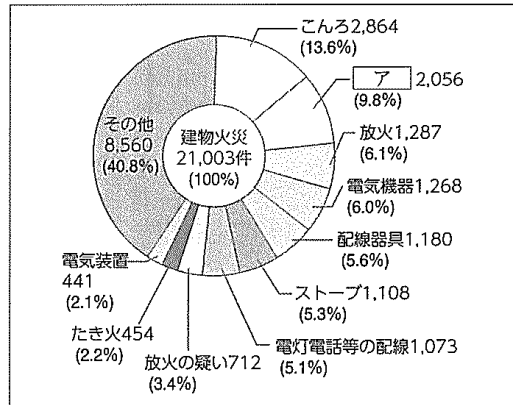
(1) 日本は、世界でも有数の地震国であり、建物の揺れに対する対策として「制震」がある。制震について簡潔に記せ。

(2) 災害への日常的な備えとしてどのようなことができるか、簡潔に二つ記せ。

問2 住まいの火災について、次の(1)～(3)に答えよ。

(1) 図7は、出火原因を示したグラフである。

[ア]に入るものは何か、答えよ。



(消防庁「消防白書」令和2年度より)

図7

- (2) 火災の早期発見のために、消防法によって寝室と階段への設置が義務づけられているものは何か、答えよ。
- (3) 図8は、電源プラグの周囲にほこりや湿気が付着することにより起きる現象であるが、これを何というか、答えよ。

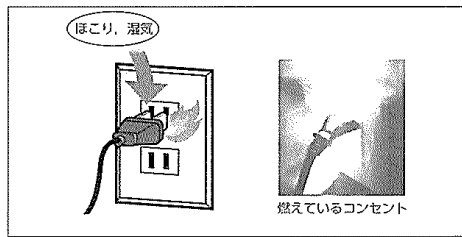


図8

- 問3 次の文は、環境と住まいについて述べたものである。□イ～□エにあてはまる語句をA～Eから選び、記号で答えよ。

地球環境にやさしい住まいとは、省資源・省エネルギーや環境共生などを基にした持続可能性を重視した住まいである。再生エネルギーの積極的な利用に特徴がある□イや、建設から解体までのライフサイクルを通じて二酸化炭素排出量をマイナスにする□ウ、エネルギー制御に特徴がある□エなどの取り組みが見られる。

- A LCCM住宅      B ネット・ゼロ・エネルギー・ハウス（ZEH）      C スマートハウス  
D 環境共生住宅      E 省エネルギー基準

第7問題 消費生活について、次の問に答えよ。

- 問1 次の①～③は、カード決済について説明したものである。①～③のカードの名称を答えよ。

- ① 銀行の預金口座とつながっており、預金の残額内で支払いができ、買ったときに口座からお金が引き落とされて即時払いされる。
- ② あらかじめ購入し、使うと残額が減る。額が少なくなったら、追加で入金することができるカードもある。
- ③ カード会社が商品の代金を立て替え、消費者は期日までに後払いをする。発行には所得などの審査が必要で、18歳未満はつくることができない。

- 問2 次の①～③は、消費者を守る法律を説明したものである。法律の名称をA～Dから選び、記号で答えよ。

- ① トラブルが起りやすい訪問販売、通信販売などを対象に、事業者が守るべきルールと、クーリング・オフなどの消費者を守るルールを定めた法律。
- ② 製品の欠陥により、人や財産に被害を受けた場合、製造業者などに損害賠償を求めることができることを定めた法律。
- ③ 消費者を保護し、自立を支援する法律。消費者の権利を明記している。

- A 製造物責任法（PL法）      B 消費者契約法      C 消費者基本法      D 特定商取引法

- 問3 企業は、自社の利益だけでなく、社会全体や環境などに与える影響に配慮した行動や事業活動が求められている。これを何というか、アルファベット3文字で答えよ。

- 問4 ESG投資とは何か、簡潔に説明せよ。