

令和7年度 公立学校教員採用候補者選考試験問題

地理歴史及び公民

1 / 18 枚中

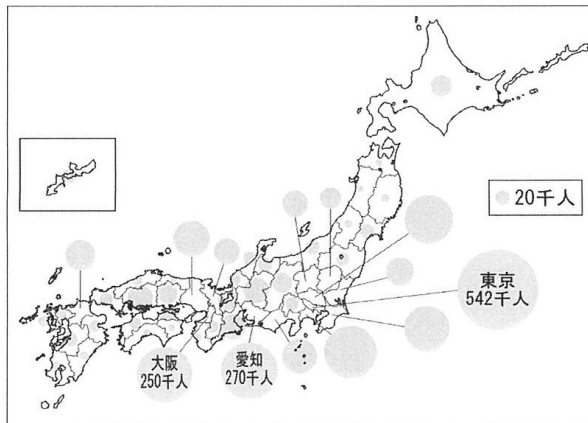
注意1 答はすべて解答用紙の解答欄に記入すること。
注意2 解答にあたっては、事象名、人名、地名等の中で、漢字で表記すべき用語は漢字で記入すること。

第1問題 地理の基礎的事項に関する次の問に答えよ。

問1 地球上の日付や自然現象について述べた文として適当なものを、A～Dから一つ選び、記号で答えよ。

- A 本初子午線は、ロンドン郊外の旧グリニッジ天文台を通る経線であり、経度と時刻の基準である。
- B 日付変更線は、東経及び西経180度の経線上にあり、この線をこえて西に行く時には1日前の日付とする。
- C 赤道は北極点と南極点からともに等しい距離にある点を結んだ線であり、年に1度、南中時の太陽高度が90度になる日がある。
- D 北極に近い高緯度では、夏至を中心とした時期に、太陽が沈んでも一晩中暗くならない極夜がみられる。

問2 図1について述べた文として適当なものを、後のA～Dから一つ選び、記号で答えよ。



(法務省「在留外国人統計」より作成、2021年)

図1

- A 図1は、地形図などと同様に一般図に分類される。
- B 図1は、メッシュマップなどと同様に相対分布図に分類される。
- C 図1は、階級区分図などと同様に人口密度図に適している。
- D 図1は、円の大きさと統計数字の大きさを表現した図形表現図である。

第2問題 図2に関する後の問に答えよ。

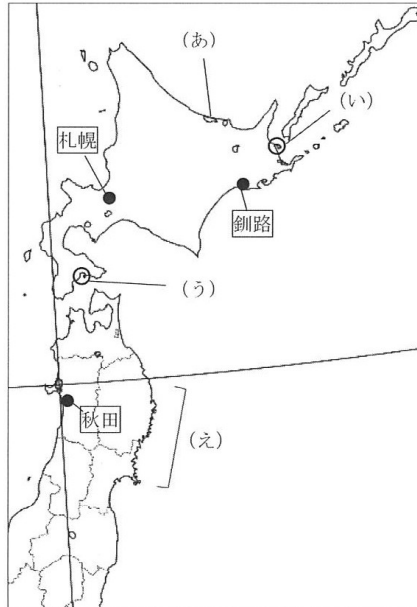


図2

問1 図2に示した緯線と経線が交差する地点の緯度と経度の組合せとして正しいものを、A～Dから一つ選び、記号で答えよ。

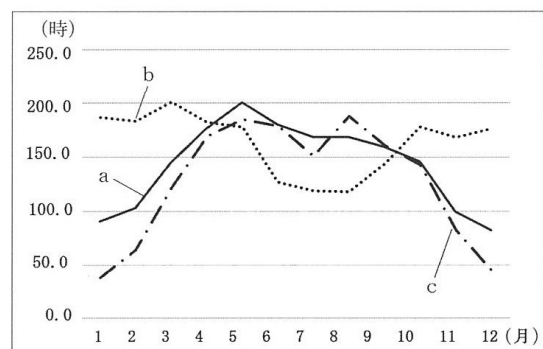
- A 北緯40度・東経130度
- B 北緯40度・東経140度
- C 北緯50度・東経130度
- D 北緯50度・東経140度

問2 図2に示した地域について述べた文として適当なものを、A～Dから一つ選び、記号で答えよ。

- A (あ)のサロマ湖は、火山性の凹地に海水が侵入してできた汽水湖である。
- B (い)の野付半島は、氷河によって運搬された岩屑がつくった堆積地形である。
- C (う)の函館山は、トンボロによって海岸とつながった陸繋島である。
- D (え)の三陸海岸は、土地の隆起や海水準の下降で海面下の土地が陸化してできたリアス海岸である。

問3 図3は、図2の釧路、札幌、秋田のいずれかの都市における、月別日照時間を示したものである。図3のa～cと、都市の組合せとして正しいものを、A～Fから一つ選び、記号で答えよ。

- | | a | b | c |
|---|----|----|----|
| A | 釧路 | 札幌 | 秋田 |
| B | 釧路 | 秋田 | 札幌 |
| C | 札幌 | 釧路 | 秋田 |
| D | 札幌 | 秋田 | 釧路 |
| E | 秋田 | 釧路 | 札幌 |
| F | 秋田 | 札幌 | 釧路 |



(「気象庁資料より作成、1991-2020年平均値」)

図3

問4 表1は、北海道、岩手県、秋田県、山形県の農業産出額（2022年）について示したものである。このうち、山形県の統計として正しいものを、A～Dから一つ選び、記号で答えよ。

表1 単位：億円

	米	野菜	果実	畜産物
A	1,067	2,228	83	7,535
B	468	241	137	1,714
C	852	295	85	378
D	689	426	766	411

(農林水産省ウェブサイトより作成)

問5 図4は、2万5千分の1地形図「永山」(平成18年更新)の一部である。後の(1)、(2)に答えよ。



図4

(1) 図4には屯田兵村の名残をとどめる地名がみられる。屯田兵村について述べた文として適当なものを、A～Dから一つ選び、記号で答えよ。

- A 屯田兵村は、江戸時代に北海道の開拓と防衛のために設けられた。
- B 屯田兵は、平時は農業を営むが、非常時には治安の維持にあたった。
- C 集落の形態は、はじめは散村であったが、後は路村が一般的となった。
- D 図4の線路沿いに広がっている果樹園は、屯田兵村の名残である。

(2) 図4にみられる地割のモデルとなった、アメリカ合衆国中西部で行われた公有地の分割制度を何というか、答えよ。

第3問題 図5に関する後の問に答えよ。

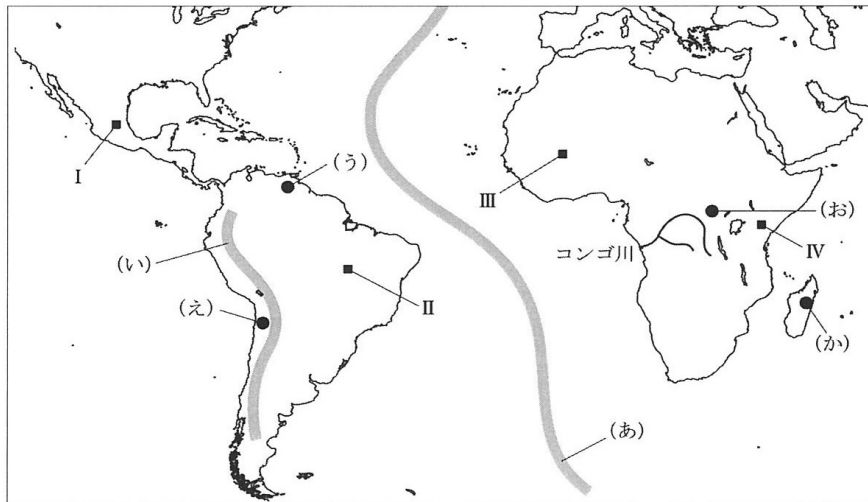


図5

問1 次の文は、図5の地形について説明したものである。ア、イにあてはまる語句の組合せとして正しいものを、後のA～Dから一つ選び、記号で答えよ。

図5の(あ)は、大西洋中央アであり、プレートのイに位置している。

- | | | |
|---|----|-------|
| | ア | イ |
| A | 海嶺 | 広がる境界 |
| B | 海嶺 | 狭まる境界 |
| C | 海溝 | 広がる境界 |
| D | 海溝 | 狭まる境界 |

問2 図5の山脈(い)の名称を答えよ。

問3 図5のコンゴ盆地を流れるコンゴ川では、内陸と外洋を結ぶ交通は発達していない。内陸と外洋を結ぶ交通が発達していない理由を、アフリカ大陸の地形の特徴にふれて説明せよ。

問4 図5について述べた文として適当なものを、A～Dから一つ選び、記号で答えよ。

- A (う)では、雨季と乾季の区別が明瞭な熱帯気候のもとで、ステップとよばれるサバナ型草原が広がっている。
- B (え)では、沖合を流れる暖流の影響を受けてアタカマ砂漠が形成された。
- C (お)では、気温の年較差より日較差が大きい気候のもとで、熱帯雨林と呼ばれる密林がみられる。
- D (か)では、偏西風の影響を受けて、タイガと呼ばれる針葉樹林が広がっている。

問5 次のA～Dは、図5のI～IVのいずれかの都市について示したものである。IVの説明として適当なものを、A～Dから一つ選び、記号で答えよ。

- A アステカ王国の古都で、大気汚染や交通渋滞など都市問題が深刻化している。
- B 内陸部開発の拠点として建設された計画都市で、平面形はジェット機に似ている。
- C 古くから交通の要衝として栄え、14世紀のマリ帝国時代に絶頂期を迎えた。
- D 高原に位置する首都であるとともに、UNEP（国連環境計画）の事務局所在地でもある。

問6 次の文は、ある国の農業について述べたものである。この国の国名として適当なものを、後のA～Dから一つ選び、記号で答えよ。

この国の農業は、世界的な一次産品の需要の高まりや冷凍船の普及、鉄道建設やイタリアやスペインからの移民労働力の増加によって発展した。大土地所有制に基づく大牧場または大農園はエスタンシアと呼ばれている。

- A ブラジル B アルゼンチン C モロッコ D ケニア

第4問題 日本の古代について、次の問に答えよ。

問1 次の(あ)～(う)について、年代の古いものから順に並べたものとして正しいものを、A～Fから一つ選び、記号で答えよ。

- (あ) 百濟復興を目指した日本は、白村江の戦いで唐・新羅連合軍に敗れた。
(い) 中国に留学生として渡った高向玄理や旻は、中国の政治・制度を学び、帰国後に国博士に登用された。
(う) 最澄と空海は中国に渡って仏教を学び、帰国後、それぞれ天台宗と真言宗をひらいた。

- A (あ) → (い) → (う)
B (あ) → (う) → (い)
C (い) → (あ) → (う)
D (い) → (う) → (あ)
E (う) → (あ) → (い)
F (う) → (い) → (あ)

問2 11世紀半ば、陸奥守として任地にくだった源頼義が、子の義家とともに陸奥の豪族安倍氏を滅ぼした戦いを何というか、答えよ。

第5問題 日本の中世について、次の問に答えよ。

問1 次の史料1～史料3について、それぞれの史料から読み取れる時代が歴史的に古いものから順に並べたものとして正しいものを、A～Fから一つ選び、記号で答えよ。

史料1

…六波羅殿の御一家の君達と言ひてしかば、花族も栄耀も面を向へ、肩を並ぶる人なし。されば入道相国のこじうと、平大納言時忠卿ののたまひけるは、「此一門にあらざらむ人は皆、人非人なるべし。」とぞのたまひける。

〔平家物語〕

史料2

コノ後三条位ノ御時、…延久ノ記録所トテハジメテヲカレタリケルハ、諸国七道ノ所領ノ宣旨・官符モナクテ公田ヲカスムル事、一天四海ノ巨害ナリトキコシメシツメテアリケルハ、…

〔愚管抄〕

史料3

第七十二代、第三十九世白河院…天下ヲ治給コト十四年。…世ノ政ヲハジメテ院中ニテシラセ給。…院宣・庁御下文ヲオモクセラレシニヨリテ、在位ノ君又位ニソナハリ給ヘルバカリナリ。

〔神皇正統記〕

- A 史料1→史料2→史料3
- B 史料1→史料3→史料2
- C 史料2→史料1→史料3
- D 史料2→史料3→史料1
- E 史料3→史料1→史料2
- F 史料3→史料2→史料1

問2 鎌倉幕府の支配の根本となったのは、将軍と御家人の主従関係である。この主従関係の中で、御家人は戦時には軍役、平時には京都や鎌倉を警護する義務を負った。御家人が将軍に奉仕するこうした義務を何というか、漢字2字で答えよ。

問3 1221年に起こった承久の乱について、次の(1)、(2)に答えよ。

(1) 北条義時追討の兵をあげた上皇は誰か、答えよ。

(2) この乱に勝利した鎌倉幕府は、畿内・西国への影響力を強めることとなった。それを可能にした幕府による承久の乱後の政策について述べた次の文中の「ア」にあてはまる語を答えよ。

幕府は、上皇方の所領を没収し、それらの所領に「ア」をおいた。

問4 室町幕府の政治について述べた文として適当なものを、A～Dから一つ選び、記号で答えよ。

- A 室町幕府は、京都に六波羅探題を設置して、朝廷を監視した。
- B 足利義満は、専制的な政治を行い、有力守護のひとりであった赤松満祐に殺害された。
- C 足利義持の時代に、幕府内部の勢力争いが激しくなり、観応の擾乱が起こった。
- D 足利義政の時代に、将軍のあとつぎ問題をめぐって有力な守護大名が対立し、応仁の乱が起こった。

第6問題 日本の近世について、次の問に答えよ。

問1 次の史料4について、この法令を出したのは誰か、答えよ。

史料4

- 一 日本ハ神国たる処、きりしたん国より邪法を授け候儀、太以て然るべからず候事。
(略)
- 一 (前略) 伴天連儀、日本の地ニハおかせられ間敷候間、今日より廿日の間ニ用意仕り帰国すべく候。
- 一 黒船の儀ハ商売の事に候間、各別に候の条、年月を経、諸事売買いたすべき事。
(略)

問2 老中松平定信による寛政の改革について述べた文として適当なものを、A～Dから一つ選び、記号で答えよ。

- A 旗本・御家人たちの生活の安定のために、棄捐令を出して札差に貸金を放棄させた。
- B 慶安の変がおこると、大名の末期養子の禁止を緩和し、牢人の増加を防ごうとした。
- C 大名から米を上納させる上げ米を実施し、その代わりに参勤交代の負担を緩めた。
- D 仏教を重んじて生類憐みの令を出して、生類の殺生を禁じた。

問3 幕末の貿易開始は、社会状況の変化を招き、尊王攘夷運動を激化させる一因となった。図6は、どのような社会状況を風刺したものか、答えよ。



図6

第7問題 日本の近現代について、次の問に答えよ。

問1 1873年に制定された地租改正条例により、課税基準が収穫高から地価に変更された。それは、政府のどのようなねらいによるものか、説明せよ。

問2

問題として成立しなかったため未掲載（※別紙参照）

問3 次の（あ）～（う）について、年代の古いものから順に並べたものとして正しいものを、A～Fから一つ選び、記号で答えよ。

（あ）「日本列島改造」を掲げた首相が訪中して、日中共同声明を発表し、日中国交正常化が実現した。

（い）アジアで最初のオリンピックである東京オリンピックが開催された。

（う）日本はアメリカ合衆国とMSA協定を締結して、自衛力増強の義務を負い、自衛隊を発足させた。

A （あ）→（い）→（う）

B （あ）→（う）→（い）

C （い）→（あ）→（う）

D （い）→（う）→（あ）

E （う）→（あ）→（い）

F （う）→（い）→（あ）

第8問題 教師と生徒の会話文を読んで、後の問に答えよ。

鳥根県のあるクラスで、アジア諸国と欧米諸国の接触について歴史総合の授業が行われている。

教師：史料5と史料6は、いずれも「黄禍論」に関するものです。史料5は1905年に当時のドイツ皇帝 が
①アメリカ合衆国大統領セオドア＝ローズヴェルトへ送った書簡の一部で、史料6は同年に日本人の森鷗外が著した『黄禍論梗概』の一部です。それぞれの史料から「黄禍論」とはどのようなものであったか、について考えていきましょう。

史料5

私が予見するに、将来において「白人」と「黄色人」との間には、まさにその生存を懸けた生死の闘いが起ころであろう。それ故、「白人種」に属する諸国民ができるだけ早くそのことを理解し、来るべき危険に対して共同の防衛処置をとることが望ましいのである。この危険はやがて、白人種の間での共同援助と理解にとって、
②ハーグ条約や平和・仲裁会議などよりもはるかにましな相互の絆となることであろう。

〔世界史史料6〕

史料6

青眼をもて白人を視、白眼をもて黄人を視る。乃ち新語を造り出して黄禍と云ふ。安ぞ知らん、③北のかた愛理に五千の清人を駆りて、黒龍江水に赴きて死せしめ、南のかた旅大を蚕食して、陽に租借と称するは、人道に逆ひ、国際法を破ること、殆ど人の意料の外を出づるを。予は世界に白禍あるを知る。而して黄禍あるを知らず。

〔世界史史料6〕

生徒1：「黄色人」とはアジアの人々のことだと感じるのので、史料5からは、ドイツ皇帝 がアジアの国に対して強い警戒心を抱いていることが伝わってきました。

生徒2：森鷗外の文である史料6からは、欧米の列強諸国や「黄禍論」に対する強い反発や抵抗心を感じました。

生徒3：森鷗外の主張は、随分堂々としていますね。そう言えば、森鷗外は津和野藩出身で、若いころ④ドイツに留学していました。

教師：三人とも、良いところに気が付きましたね。皆さんが言ってくれたように、「黄禍論」とは19世紀末、ドイツ皇帝 が、日清戦争での日本勝利をきっかけとして、「日本人や中国人などの黄色人種が、白色人種に災いをもたらす」として唱えたもので、ヨーロッパの一部で広がっていきました。

生徒1：しかし、随分、偏見に満ちた考え方のように感じますが。

教師：そうですね。当時は帝国主義の真ただ中にあり、⑤各国の国民の間では、他民族支配の正当化につながる人種的、民族的な差別意識や、他国との競争を鼓舞する好戦的な愛国主義が広がっており、「黄禍論」もそのような人種主義的な差別論と言えます。

問1 文中の にあてはまるドイツ皇帝と、この皇帝の政治について述べた文の組合せとして正しいものを、A～Dから一つ選び、記号で答えよ。

ドイツ皇帝

この皇帝の政治

- | | |
|------------|--------------------------|
| a ヴィルヘルム1世 | X 「世界政策」を掲げて帝国主義政策を追求した。 |
| b ヴィルヘルム2世 | Y ベルリン会議を開いて列強間の対立を調停した。 |

- A a - X
B a - Y
C b - X
D b - Y

問2 下線部①のセオドア＝ローズヴェルト大統領の政策について述べた文として適当なものを、A～Dから一つ選び、記号で答えよ。

- A 十四カ条の平和原則を発表した。
- B 日露戦争の講和を仲介した。
- C フランスのメキシコ出兵に干渉した。
- D フロンティアの消滅を宣言した。

問3 下線部②に関して、緊迫した国際情勢の緩和を目的に、オランダのハーグで1899年に第1回目が開催された国際会議の名称を答えよ。

問4 下線部③に関連して、19世紀におけるアジア諸国は、欧米諸国の帝国主義的進出に苦しめられた。当時の欧米によるアジア進出について述べた文として適当なものを、A～Dから一つ選び、記号で答えよ。

- A ロシアは、北京条約によって沿海州を獲得し、ウラジヴォストーク港を開港した。
- B イギリスは、イランのガージャール朝との間にトルコマンチャーイ条約を結んだ。
- C ドイツは、膠州湾の租借権と東清鉄道の敷設権を獲得した。
- D フランスは、ベトナムへの留学をすすめるドンズー（東遊）運動を弾圧した。

問5 下線部④に関連して、19世紀のドイツでは学術研究や教育の展開がめざましく、その後、近代科学の成果を生かした工業部門や新技術を発展させ、アメリカ合衆国とともに世界の先導役となった。このような19世紀以降のドイツの学術研究と研究者の組合せとして適当でないものを、A～Dから一つ選び、記号で答えよ。

- | 学術研究 | 研究者 |
|--------------|-------|
| A ガソリン自動車の発明 | ダイムラー |
| B 無線電信の実験成功 | モールス |
| C X線の発見 | レントゲン |
| D 結核菌の発見 | コッホ |

問6 この授業の後、下線部⑤のことに興味を持った生徒らは探究を続け、メモにまとめてみた。メモの内容の正誤について述べた文として適当なものを、後のA～Fから一つ選び、記号で答えよ。

生徒1のメモ

ダーウィンの唱えた社会進化論は、優生学や人種理論と結び付けられ、他人種・他民族の差別や植民地支配を正当化した。反ユダヤ主義や黄禍論は、科学の名のもとに非科学的な主張がなされた一例であった。

生徒2のメモ

第一次世界大戦を機に世界最大の債権国となったアメリカ合衆国は、「永遠の繁栄」「黄金の20年代」を謳歌する一方で、保守的で排外的な傾向が強まり、大戦後には社会主義の排除、アジア系・東南欧系移民の排斥や差別、人種主義の強化をもたらした。

生徒3のメモ

第一次世界大戦での敗戦と革命で国内が分裂したドイツでは、人種主義による秩序回復を唱えるナチスが政権を掌握したのち、ユダヤ人の排除が組織的に行われた。

- A 生徒1のみ正しい。
- B 生徒2のみ正しい。
- C 生徒3のみ正しい。
- D 生徒1と生徒2のみが正しい。
- E 生徒1と生徒3のみが正しい。
- F 生徒2と生徒3のみが正しい。

第9問題 茶とコーヒーの歴史に関する表2を見て、後の、人や物の交流・伝播の歴史に関する問に答えよ。

表2

	茶の歴史	コーヒーの歴史
前3世紀ごろ	①中国雲南省周辺で、薬として茶を飲む習慣が始まる	
②8世紀後半	陸羽が『茶経』のなかで製法、飲み方、効用を記す	
9世紀	③遣唐使を通して日本に伝えられる	
④11世紀		イスラーム世界で薬用・宗教用に飲まれる（深夜勤行の眠気覚まし）
16世紀	⑤ポルトガルやイタリア人に知られる	カイロやイスタンブルにコーヒー店が開かれる
17世紀	オランダ東インド会社が日本と中国で購入した茶をアムステルダムにもたらす	⑥ロンドンやパリにもコーヒー店出店
18世紀後半	紅茶が普及 ⑦茶法の制定	
19世紀	喫茶が⑧英国文化圏に伝播 インドやセイロンでプランテーションが開始される	ブラジルを中心にプランテーションが開始される
20世紀	ティーバッグで大衆化	インスタントコーヒーの普及

問1 下線部①に関連して、人類は病気や伝染病と闘うために、薬学・医学の先進知識を他の国から学び取ろうとしてきた。このことについて述べた文(あ)～(う)について、年代の古いものから順に並べたものとして正しいものを、A～Fから一つ選び、記号で答えよ。

(あ) アッバース朝では、ギリシア語による医学の文献が盛んにアラビア語に翻訳された。

(い) 明の時代に刊行された『本草綱目』は、日本の医学にも影響を与えた。

(う) ジェンナーの種痘法は、予防接種による病気治療の道を開いた。

A (あ) → (い) → (う) B (あ) → (う) → (い) C (い) → (あ) → (う)

D (い) → (う) → (あ) E (う) → (あ) → (い) F (う) → (い) → (あ)

問2 下線部②に関連して、751年のタラス河畔の戦いで捕虜となった唐の職人からイスラーム世界に伝えられたとされる技術とは何か、答えよ。

問3 下線部③に関連して、日本と東アジアを結んだ使節について述べた次の(あ)～(う)の文の正誤の組合せとして正しいものを、A～Fから一つ選び、記号で答えよ。

(あ) 日本は隋・唐に対し遣隋使や遣唐使を送り、冊封を求めた。

(い) 足利義満は、遣唐使の停止以来とだえていた中国への正式な使節派遣を復活させた。

(う) 江戸幕府は鎖国を完成させた後、朝鮮通信使の受け入れを中止した。

(あ) (い) (う)

A 正 正 正

B 正 正 誤

C 正 誤 誤

D 誤 正 正

E 誤 正 誤

F 誤 誤 誤

問4 下線部④に関連して、11世紀に成立したセルジューク朝の活動を契機とする十字軍がその後の西ヨーロッパに与えた影響について、経済面から説明せよ。

問5 下線部⑤に関連して、15世紀後半のポルトガルによるアジア交易参入を契機として、世界の交易網の一体化が進展する「大交易時代」が到来した。この大交易時代の出来事について述べた文として適当なものを、A～Dから一つ選び、記号で答えよ。

- A トルデシヤス条約によって、ブラジルはスペイン領となった。
- B マゼランは、初めて東まわりによる世界一周航海を達成した。
- C ピサロは、ペルーのインカ帝国を征服した。
- D イスラーム国家であるアチェ王国やシュリーヴィジャヤ王国が栄えた。

問6 下線部⑥に関連して、ロンドンのコーヒーハウス(図7)やバリのカフェには新聞や雑誌がそなえられ、市民たちの社交や情報交換の場となった。このような場での市民の交流などとおして、当時のイギリスやフランスで広まった啓蒙思想について述べた文として適当でないものを、後のA～Dから一つ選び、記号で答えよ。



図7

- A モンテスキューは『法の精神』のなかで、イギリスの立憲君主政を例に王権の制限を主張した。
- B ヴォルテールは『哲学書簡』のなかで、フランスの後進性を批判した。
- C デイドロやグランペールらが編集した『百科全書』は、啓蒙思想の普及を助けた。
- D ルソーは『エミール』のなかで、女性の解放と女子教育の重要性を説いた。

問7 下線部⑦に関して、図8はアメリカ独立戦争のきっかけの一つとなったある事件を描いたものである。この事件名を答えよ。




図8

問8 下線部⑧に関連して、20世紀のイギリスの歴史について述べた次のa、bの文の正誤の組合せとして正しいものを、A～Dから一つ選び、記号で答えよ。

- a 1918年の第4次選挙法改正により、21歳以上の男女すべてに普通選挙権が与えられた。
- b 1997年に、南京条約以来租借し続けていた香港とマカオを中国に返還した。

- | | a | b |
|---|---|---|
| A | 正 | 正 |
| B | 正 | 誤 |
| C | 誤 | 正 |
| D | 誤 | 誤 |

第10問題 倫理分野に関する教師と生徒の会話を読んで、後の問に答えよ。

あるクラスで、倫理分野のまとめの授業が行われている。

教師：これまで見てきたように、私たちの生きる現代日本の社会は、①西洋近・現代の価値観を主な拠りどころとして成り立っていますが、一方で、西洋の文化を受け入れる以前からの、長く豊かな文化的伝統の蓄積があることも忘れてはいけませんね。思想の視点から西洋と日本を比較して、どのようなことが言えるでしょうか。

生徒1：はい。倫理学者の和辻哲郎は『風土』のなかで、日本を自然に対して「ア」な「モンスーン型」に類型して、西洋との違いを説明しています。

生徒2：その「ア」な性格のもとでは、自然のすべてのものに神が宿るとする信仰が生まれるとされますが、これも一神教を主とする西洋との違いと言えるのではないのでしょうか。

教師：はい。日本の神話には究極的な神は存在しません。こうした究極的な神の不在という考え方が、多様な価値を容認する態度にもつながったと言われます。

生徒1：そのような態度が、②日本が外国からの異質な宗教や文化を柔軟に受け入れ、それらを共存・重層させながら独自の文化を形成した背景なのですね。

問1 文中の「ア」にあてはまる語として適当なものを、A～Cから一つ選び、記号で答えよ。

- A 対抗的・戦闘的
- B 受容的・忍従的
- C 合理的・計画的

問2 下線部①に関連して、西洋近・現代思想について述べた文として適当でないものを、A～Dから一つ選び、記号で答えよ。

- A カントは方法的懐疑によって、「私は考える、それゆえに私はある」という真理を見いだした。
- B グロティウスは「理性の法」を唱え、近代自然法及び国際法の父とされる。
- C デューイは、道具主義の立場から、創造的知性による社会の進歩を唱えた。
- D フロイトは、人間の行動の根底には無意識の欲望があると説き、精神分析学を創始した。

問3 下線部②に関連して、イエスと日本の「二つのJ」にその人生をささげ、高潔な武士道の道德心に世界的な視野の広がりを与えて、日本の神の義にかなう国にしようとつとめた人物は誰か、答えよ。

第11問題 政治分野に関する次の問に答えよ。

問1 人権保障のあゆみについて述べた次の(あ)～(う)の文について、年代の古いものから順に並べたものとして正しいものを、A～Fから一つ選び、記号で答えよ。

- (あ) イギリスでは、議会の同意なく課税しないことや人身の自由などを定めた権利請願を国王に認めさせ、王権を制限した。
- (い) フランスでは、フランス革命を契機に自由、所有権、安全および王政への抵抗が自然権とした人権宣言が国民議会で採択された。
- (う) ドイツではワイマール憲法が制定され、世界の憲法で初めて社会権が保障され、生存権や労働基本権などが定められた。

- A (あ) → (い) → (う)
- B (あ) → (う) → (い)
- C (い) → (あ) → (う)
- D (い) → (う) → (あ)
- E (う) → (あ) → (い)
- F (う) → (い) → (あ)

問2 次の文は日本国憲法第12条からの引用である。文中の「ア」にあてはまる適切な語句を答えよ。

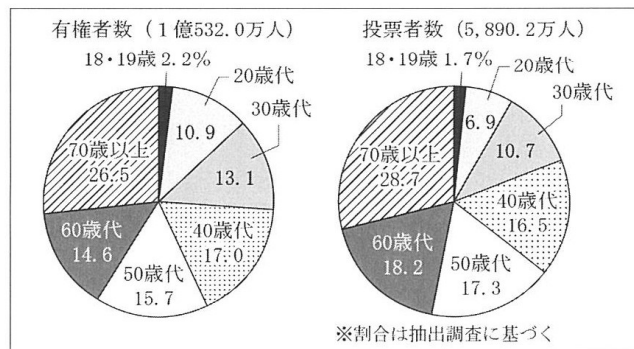
この憲法が国民に保障する自由及び権利は、国民の不断の努力によつて、これを保持しなければならない。又、国民は、これを濫用してはならないのであつて、常に「ア」のためにこれを利用する責任を負ふ。

問3 表3は各年代の有権者が投票の際に考慮した問題、図9は有権者と投票者の年代別割合を示している。これら二つの資料から読み取ることができることについて、「40歳代以下」という語を使って、説明せよ。

表3

	18～20歳代 (%)		30～40歳代 (%)		50～60歳代 (%)		70歳以上 (%)	
1	景気対策	43.5	景気対策	57.3	医療・介護	56.5	医療・介護	63.9
2	子育て・教育	39.5	子育て・教育	51.7	景気対策	55.7	年金	55.4
3	コロナ対策	34.7	医療・介護	42.5	コロナ対策	42.9	景気対策	46.1
4	医療・介護	25.0	コロナ対策	33.5	年金	41.1	コロナ対策	43.9
5	雇用対策	21.0	雇用対策	28.6	子育て・教育	29.2	子育て・教育	27.5
6	年金	17.7	年金	24.0	雇用対策	26.7	外交・防衛	24.0
7	財政再建	16.1	消費税	19.2	財政再建	23.4	消費税	22.9
8	男女共同参画	15.3	財政再建	18.2	原発・エネルギー	18.1	財政再建	21.2
9	消費税	12.9	外交・防衛	13.8	外交・防衛	18.1	原発・エネルギー	19.7
10	憲法改正	8.9	防災対策	10.0	消費税	17.7	防災対策	19.5

(2021年10月衆議院議員総選挙、明るい選挙推進協会資料)



(2021年10月衆議院議員総選挙、総務省資料)

図9

問4 図10は日本の三権分立についての模式図である。この図の矢印①～矢印④について説明した文として適当なものを、A～Dから一つ選び、記号で答えよ。

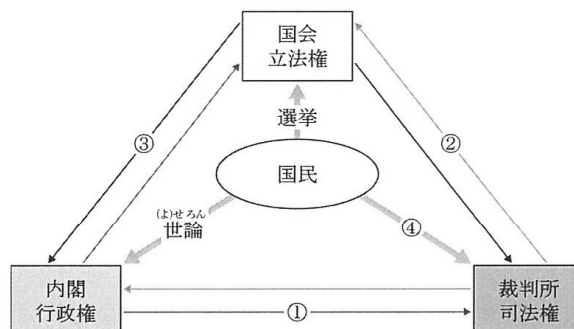


図10

- A 矢印①について、内閣は裁判官の弾劾ができ、裁判官を罷免できる。
- B 矢印②について、裁判所は違憲審査権を行使し法律の憲法違反に対して審査する。
- C 矢印③について、国会は内閣総理大臣の任命、内閣不信任決議を行うことができる。
- D 矢印④について、国民は国民投票法に基づいて最高裁判所の裁判官を信任することができる。

問5 地方自治などについて述べた文として適当なものを、A～Dから一つ選び、記号で答えよ。

- A 地域で起きた問題は、住民の意思に基づいて解決すべきものであり、この原則を地方自治という。欧米では地方自治から民主主義が発達したため、政治学者ブライスは、「地方自治は民主主義の学校」であるとした。
- B 首長と議会の関係において、議会は、首長に対して不信任決議権を持ち、首長は議会の解散権を持つ。一方で、首長は、議会の議決に関して再議に付することができる拒否権を持っていない。
- C 地域で起きた問題に対して、住民には住民投票で意思を示す機会が認められているが、一つの地方公共団体のみに適用される特別法の制定には、住民投票において3分の2の同意が必要とされる。
- D 地方分権を推進するために地方分権一括法が制定され、国と地方との関係は対等・協力の関係になり、これまで国の指揮・監督のもとで処理されてきた法定受託事務が廃止された。

第12問題 経済分野に関する次の問に答えよ。

問1 図11は景気変動の4つの局面を模式的に示したものである。不況期には物価が下落する傾向があるが、その物価の下落と企業利益の減少が、連続して起こる状況を何というか、答えよ。

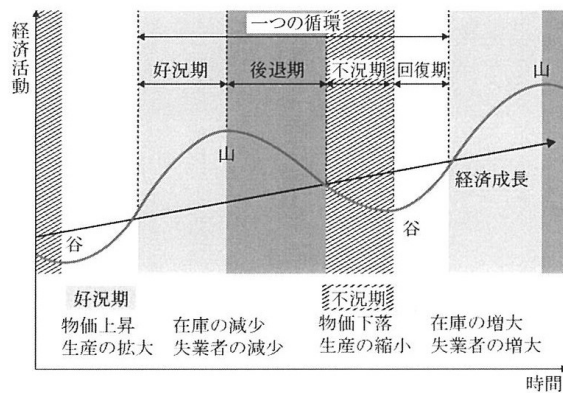


図11

問2 不況期に政府が行う財政政策について述べた次の a、b の文の正誤の組合せとして正しいものを、A～Dから一つ選び、記号で答えよ。

- a 減税を実施し、企業や個人の消費活動を活発にさせる。
- b 有効需要の抑制や無駄な支出を減らすために公共投資を減らす。

- | | | |
|---|---|---|
| | a | b |
| A | 正 | 正 |
| B | 正 | 誤 |
| C | 誤 | 正 |
| D | 誤 | 誤 |

問3 日本の社会保障制度について述べた文として適当なものを、A～Dから一つ選び、記号で答えよ。

- A 社会保障制度を考える際に、「自助」、「共助」、「公助」の考え方があるが、医療や介護などの公的な社会保険制度は公助に当たると考えられる。
- B 社会保障制度は、「社会保険」、「公衆衛生」、「社会福祉」、「公的扶助」の4つの柱からなり、これらの制度は、日本国憲法第11条の「基本的人権の享有」に基づいている。
- C 公的年金間の格差是正のために基礎年金制度が設計されているが、その年金の財源調達方法は、世代間扶養の考え方に基づく積立方式が採用されている。
- D 社会保障制度に関わる給付と負担の公平性や行政手続きの簡素化などを図るため、国内の住民一人一人に個人番号を指定する社会保障・税番号（マイナンバー）制度が導入された。

第13問題 国際分野に関する次の問に答えよ。

問1 第二次世界大戦後の国際経済に関して述べた次の（あ）～（う）について、年代の古いものから順に並べたものとして正しいものを、A～Fから一つ選び、記号で答えよ。

- （あ） 為替相場の安定が大きな課題となり、各国が協調して政策をおこなうことが重要視される中、ドル高を是正するためにプラザ合意が成立した。
- （い） ウルグアイ・ラウンドではサービス、知的財産権、農作物といった新たな貿易分野の自由化と国際ルール作りが課題となった。
- （う） 日本やヨーロッパの経済力が高まるにつれ、米ドルの価値の下落が止まらず、ニクソン大統領は金・ドルの交換を停止した。

- A （あ）→（い）→（う）
- B （あ）→（う）→（い）
- C （い）→（あ）→（う）
- D （い）→（う）→（あ）
- E （う）→（あ）→（い）
- F （う）→（い）→（あ）

問2 表4は、東南アジア諸国連合（ASEAN）、ヨーロッパ連合（EU）、アフリカ連合（AU）、南米南部共同市場（MERCOSUR）の加盟国数・人口・GNI（総額）について示したものである。このうち、ASEANの統計として正しいものを、A～Dから一つ選び、記号で答えよ。ただし、加盟国数は2020年7月現在、人口・GNIは2018年の数値である。

表4

	A	B	C	D
加盟国数	6か国	10か国	27か国	54か国・地域
人口	3.0億人	6.4億人	4.4億人	12.2億人
GNI（総額）	3.0兆ドル	2.9兆ドル	15.4兆ドル	2.3兆ドル

（世界銀行資料などより作成）

問3 『人間開発報告書』（1994年版）で取り入れられた、人間の生存、生活、尊厳に対する脅威から、各個人を守り、人々の生活に欠かせない自由と可能性の実現をはかる考え方を何というか、答えよ。